

Dorminhoco de frações

$$\frac{1}{2}$$

$$\frac{1}{3}$$

$$\frac{1}{2}$$

$$\frac{1}{5}$$

$$\frac{1}{10}$$

$$\frac{1}{100}$$

Numerador:
1

Denominador:
2

Numerador:
1

Denominador:
3



Dorminhoco de frações

Numerador:

1

Denominador:

4

Numerador:

1

Denominador:

5

Numerador:

1

Denominador:

10

Numerador:

1

Denominador:


100

**um
meio**







**um
terço**

**um
quarto**

**um
quinto**



Dorminhoco de frações



Dorminhoco de frações

Ana quer um tênis que custa R\$ 50,00. Juntou dinheiro e agora só faltam R\$ 10,00. Qual a fração que representa quanto falta?

Paulo comprou 6 pirulitos e dividiu igualmente com seus dois irmãos. Qual a fração que representa quanto cada um ganhou do total?

Lúcia fez um bolo e levou metade para seus colegas. Qual a fração que representa o bolo que sobrou?

André estava usando a fita métrica quando surgiu uma dúvida: que fração um centímetro representa de um metro?

Valdo vende bombons. Em uma manhã, ele saiu de casa com 100 bombons e voltou com 25. Qual a fração dos bombons não vendidos?

Janaína estava contando suas moedas quando se perguntou: que fração 10 centavos representam de R\$ 1,00?

**CARTA
PREGUIÇA**

